


## CONCURS VIRTUAL - DESCRIERE POSTURI DE CONTROL CU SIMBOLURI IOF - RASPUNSURILE CORECTE.

CE DESCRIERE PRIN SIMBOLURI (A, B SAU C), SE POTRIVESTE CU POSTUL DE CONTROL NR.1 ? \*



POSTUL DE CONTROL NR. 1

CE DESCRIERE PRIN SIMBOLURI (A, B SAU C), SE POTRIVESTE CU POSTUL DE CONTROL NR.2 ? \*




POSTUL DE CONTROL NR. 2

CE DESCRIERE PRIN SIMBOLURI (A, B SAU C), SE POTRIVESTE CU POSTUL DE CONTROL NR.3 ? \*



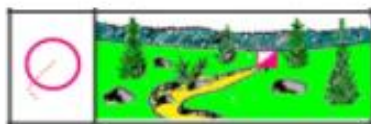
POSTUL DE CONTROL NR. 3

CE DESCRIERE PRIN SIMBOLURI (A, B SAU C), SE POTRIVESTE CU POSTUL DE CONTROL NR.4 ? \*



POSTUL DE CONTROL NR. 4

CE DESCRIERE PRIN SIMBOLURI (A, B SAU C), SE POTRIVESTE CU POSTUL DE CONTROL NR.5 ? \*



POSTUL DE CONTROL NR. 5

CE DESCRIERE PRIN SIMBOLURI (A, B SAU C), SE POTRIVESTE CU POSTUL DE CONTROL NR.6 ? \*




POSTUL DE CONTROL NR. 6

CE DESCRIERE PRIN SIMBOLURI (A, B SAU C), SE POTRIVESTE CU POSTUL DE CONTROL NR.7 ? \*

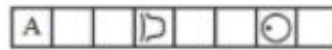


POSTUL DE CONTROL NR. 7

CE DESCRIERE PRIN SIMBOLURI (A, B SAU C), SE POTRIVESTE CU POSTUL DE CONTROL NR.8 ? \*



POSTUL DE CONTROL NR. 8




Descriere A

**Terasa, in partea sa de Vest.**



Descriere B

**Pinten, in partea sa de jos.**




Descriere C

**Cea de la Est, adancitura.**



Descriere A

**Cariera de nisip, 5x5 metri.**



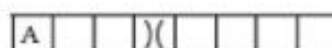
Descriere B

**Valcel sec, capatul de sus.**



Descriere C

**Intre mamelon si movila.**



Descriere A

**Sea.**




Descriere B

**Depresiune, in partea sa de Est.**

CE DESCRIERE PRIN SIMBOLURI (A, B SAU C), SE POTRIVESTE CU POSTUL DE CONTROL NR.9 ? \*



POSTUL DE CONTROL NR. 9



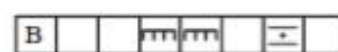
Descriere C

Musuroi, 1 m. latura de SE

CE DESCRIERE PRIN SIMBOLURI (A, B SAU C), SE POTRIVESTE CU POSTUL DE CONTROL NR.10 ? \*



POSTUL DE CONTROL NR. 10



Descriere B

Intre 2 pereti de piatra.

CE DESCRIERE PRIN SIMBOLURI (A, B SAU C), SE POTRIVESTE CU POSTUL DE CONTROL NR.11 ? \*



POSTUL DE CONTROL NR. 11



Descriere C

Intre doua stanci.

CE DESCRIERE PRIN SIMBOLURI (A, B SAU C), SE POTRIVESTE CU POSTUL DE CONTROL NR.12 ? \*



POSTUL DE CONTROL NR. 12



Descriere A

Parau, cotul cel mai la Nord.

CE DESCRIERE PRIN SIMBOLURI (A, B SAU C), SE POTRIVESTE CU POSTUL DE CONTROL NR.13 ? \*



POSTUL DE CONTROL NR. 13



Descriere B

Confluenta 2 cursuri de apa.

CE DESCRIERE PRIN SIMBOLURI (A, B SAU C), SE POTRIVESTE CU POSTUL DE CONTROL NR.14 ? \*



POSTUL DE CONTROL NR. 14



Descriere A

Lac, varful de la E, exterior.

CE DESCRIERE PRIN SIMBOLURI (A, B SAU C), SE POTRIVESTE CU POSTUL DE CONTROL NR.15 ? \*



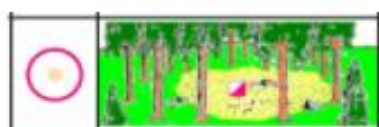
POSTUL DE CONTROL NR. 15



Descriere B

Izvor, sursa de apa.

CE DESCRIERE PRIN SIMBOLURI (A, B SAU C), SE POTRIVESTE CU POSTUL DE CONTROL NR.16 ? \*



POSTUL DE CONTROL NR. 16



Descriere C

Poiana, luminis.

CE DESCRIERE PRIN SIMBOLURI (A, B SAU C), SE POTRIVESTE CU POSTUL DE CONTROL NR.17 ? \*



POSTUL DE CONTROL NR. 17




Descriere A

Desis, latura de E, exterior.

CE DESCRIERE PRIN SIMBOLURI (A, B SAU C), SE POTRIVESTE CU POSTUL DE CONTROL NR.18 ? \*



POSTUL DE CONTROL NR. 18




Descriere B

Copac izolat, foios, latura de E.

CE DESCRIERE PRIN SIMBOLURI (A, B SAU C), SE POTRIVESTE CU POSTUL DE CONTROL NR.19 ? \*



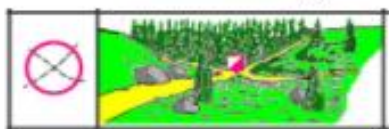
POSTUL DE CONTROL NR. 19




Descriere C

Cot de poteca, cel mai la Est.

CE DESCRIERE PRIN SIMBOLURI (A, B SAU C), SE POTRIVESTE CU POSTUL DE CONTROL NR.20 ?



POSTUL DE CONTROL NR. 20




Descriere A

Intersectie de poteci.

CE DESCRIERE PRIN SIMBOLURI (A, B SAU C), SE POTRIVESTE CU POSTUL DE CONTROL NR.21 ? \*



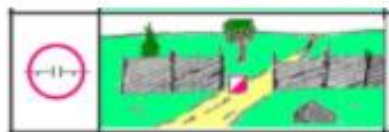
POSTUL DE CONTROL NR. 21



Descriere A

Gard, zid de piatra, colt E interior.

CE DESCRIERE PRIN SIMBOLURI (A, B SAU C), SE POTRIVESTE CU POSTUL DE CONTROL NR.22 ? \*



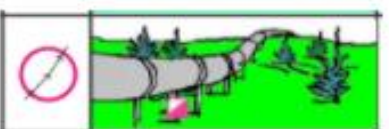
POSTUL DE CONTROL NR. 22




Descriere B

Poarta in gard.

CE DESCRIERE PRIN SIMBOLURI (A, B SAU C), SE POTRIVESTE CU POSTUL DE CONTROL NR.23 ? \*



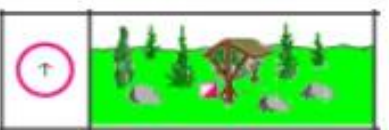
POSTUL DE CONTROL NR. 23



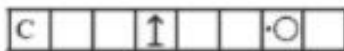
Descriere C

Conducta, sub ea.

CE DESCRIERE PRIN SIMBOLURI (A, B SAU C), SE POTRIVESTE CU POSTUL DE CONTROL NR.24 ? \*



POSTUL DE CONTROL NR. 24



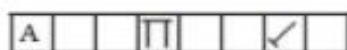
Descriere C

Iesle, latura de vest.

CE DESCRIERE PRIN SIMBOLURI (A, B SAU C), SE POTRIVESTE CU POSTUL DE CONTROL NR.25 ? \*



POSTUL DE CONTROL NR. 25



Descriere A

Pasaj prin casa, capat de SV.

CE DESCRIERE PRIN SIMBOLURI (A, B SAU C), SE POTRIVESTE CU POSTUL DE CONTROL NR.26 ? \*



POSTUL DE CONTROL NR. 26



Descriere B

Scara, la picior.

CE DESCRIERE PRIN SIMBOLURI (A, B SAU C), SE POTRIVESTE CU POSTUL DE CONTROL NR.27 ? \*




Descriere A

Mamelon, la piciorul Estic.

POSTUL DE CONTROL NR. 27

CE DESCRIERE PRIN SIMBOLURI (A, B SAU C), SE POTRIVESTE CU POSTUL DE CONTROL NR.28 ? \*




Descriere B

Turn, foisor vanatoare,  
la picior.

POSTUL DE CONTROL NR. 28

CE DESCRIERE PRIN SIMBOLURI (A, B SAU C), SE POTRIVESTE CU POSTUL DE CONTROL NR.29 ? \*




Descriere C

Pod peste curs de apa,  
sub pod.

POSTUL DE CONTROL NR. 29

CE DESCRIERE PRIN SIMBOLURI (A, B SAU C), SE POTRIVESTE CU POSTUL DE CONTROL NR.30 ? \*



Descriere A

Statuie, latura sa de Est.

POSTUL DE CONTROL NR. 30

CE DESCRIERE PRIN SIMBOLURI (A, B SAU C), SE POTRIVESTE CU POSTUL DE CONTROL NR. 31 ? \*



Descriere B

Jonctiune gard cu  
latura cladire.

POSTUL DE CONTROL NR. 31