

## RASPUNSURI CORECTE CONCURS COPII 10-14 ANI - THE BEST OF 2020

### FOTO ORIENTARE DE PRECIZIE



FOTO PUZZLE NR.1

CE COD (A, B SAU C), ARE POSTUL DIN FOTO PUZZLE NR. 1, CARE SE POTRIVESTE CU CEL DIN FRAGMENTUL DE HARTA?

CODUL B

### FOTO ORIENTARE DE PRECIZIE



FOTO PUZZLE NR.2

CE COD (A, B SAU C), ARE POSTUL DIN FOTO PUZZLE NR. 2, CARE SE POTRIVESTE CU CEL DIN FRAGMENTUL DE HARTA?

CODUL A

### FOTO ORIENTARE DE PRECIZIE



FOTO PUZZLE NR. 3

CE COD (A, B SAU C), ARE POSTUL DIN FOTO PUZZLE NR. 3, CARE SE POTRIVESTE CU CEL DIN FRAGMENTUL DE HARTA?

CODUL A

### FOTO ORIENTARE DE PRECIZIE



FOTO PUZZLE NR. 4

CE COD (A, B SAU C), ARE POSTUL DIN FOTO PUZZLE NR. 4, CARE SE POTRIVESTE CU CEL DIN FRAGMENTUL DE HARTA?

CODUL C

### DEOSEBIRI INTRE HARTI DE ORIENTARE ASEMANATOARE.



PUZZLE HARTI NR. 1

CE COD (A, B SAU C), ARE SINGURA HARTA DIFERITA DE CELELALTE DOUA, DIN PUZZLE HARTI NR.1 ?

CODUL B

CE DEOSEBIRE EXISTA INTRE HARTA DIFERITA SI CELELALTE DOUA DIN PUZZLE HARTI NR. 1 ?

Deosebire la poieni.

### DEOSEBIRI INTRE HARTI DE ORIENTARE ASEMANATOARE.



PUZZLE HARTI NR. 2

CE COD (A, B SAU C), ARE SINGURA HARTA DIFERITA DE CELELALTE DOUA, DIN PUZZLE HARTI NR.2 ?

CODUL C

CE DEOSEBIRE EXISTA INTRE HARTA DIFERITA SI CELELALTE DOUA DIN PUZZLE HARTI NR. 2 ?

Deosebiri la poteci

DEOSEBIRI INTRE HARTI DE ORIENTARE ASEMANATOARE.



PUZZLE HARTI NR. 3

CE COD (A, B SAU C), ARE SINGURA HARTA DIFERITA DE CELELALTE DOUA, DIN PUZZLE HARTI NR.3 ?

CODUL B

CE DEOSEBIRE EXISTA INTRE HARTA DIFERITA SI CELELALTE DOUA DIN PUZZLE HARTI NR. 3 ?


Deosebire la vai cu apa.

DESCRIERE POSTURI DE CONTROL PRIN SIMBOLURI IOF.



FOTO NR.1

CE COD ARE DESCRIEREA PRIN SIMBOLURI, CE SE POTRIVESTE CU POSTUL DIN FOTO NR.1 ?




codul 33

DESCRIERE POSTURI DE CONTROL PRIN SIMBOLURI IOF.



FOTO NR. 2

CE COD ARE DESCRIEREA PRIN SIMBOLURI, CE SE POTRIVESTE CU POSTUL DIN FOTO NR.2 ?



codul 35

DESCRIERE POSTURI DE CONTROL PRIN SIMBOLURI IOF



FOTO NR. 3

CE COD ARE DESCRIEREA PRIN SIMBOLURI, CE SE POTRIVESTE CU POSTUL DIN FOTO NR.3 ?



codul 39

DESCRIERE POSTURI DE CONTROL PRIN SIMBOLURI IOF



FOTO NR. 4

CE COD ARE DESCRIEREA PRIN SIMBOLURI, CE SE POTRIVESTE CU POSTUL DIN FOTO NR.4 ?



codul 44

INTERPRETAREA CURBELOR DE NIVEL

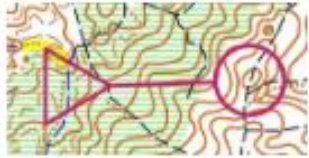


FRAGMENT HARTA NR. 1

CUM SE MERGE PE TEREN INTRE START SI POSTUL DE CONTROL ?

IN JOS

**INTERPRETAREA CURBELOR DE NIVEL**



FRAGMENT HARTA NR. 2

**CUM SE MERGE PE TEREN INTRE START SI POSTUL DE CONTROL ?**

IN SUS

**INTERPRETAREA CURBELOR DE NIVEL**



FRAGMENT HARTA NR. 3

**CUM SE MERGE PE TEREN INTRE START SI POSTUL DE CONTROL ?**

IN JOS APOI IN SUS

**INTREPRETAREA CURBELOR DE NIVEL**

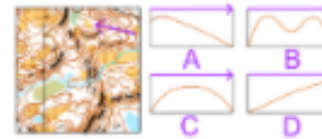


FRAGMENT HARTA NR. 4

**CUM SE MERGE PE TEREN INTRE START SI POSTUL DE CONTROL ?**

IN SUS APOI IN JOS

**PROFILUL CURBELOR DE NIVEL PE O SECTIUNE A UNUI TRASEU DE ORIENTARE**

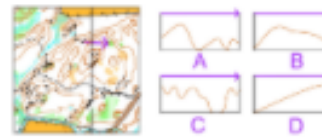


FRAGMENT HARTA NR. 1

**CE LITERA ARE PROFILUL CARE SE POTRIVESTE CU DIRECTIA SAGETII DE PE FRAGMENTUL DE HARTA NR. 1?**

PROFILUL D

**PROFILUL CURBELOR DE NIVEL PE O SECTIUNE A UNUI TRASEU DE ORIENTARE**



FRAGMENT HARTA NR. 2

**CE LITERA ARE PROFILUL CARE SE POTRIVESTE CU DIRECTIA SAGETII DE PE FRAGMENTUL DE HARTA?**

PROFILUL B